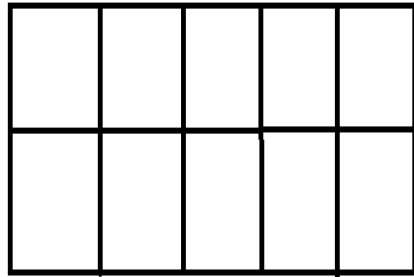
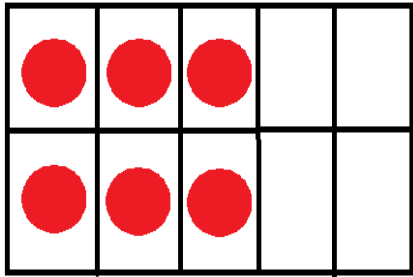





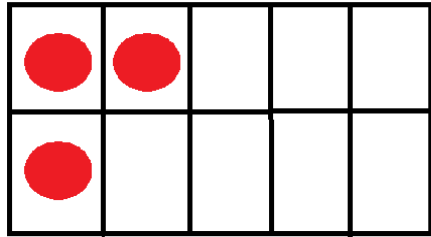
HOHA DE TRABAJO 2



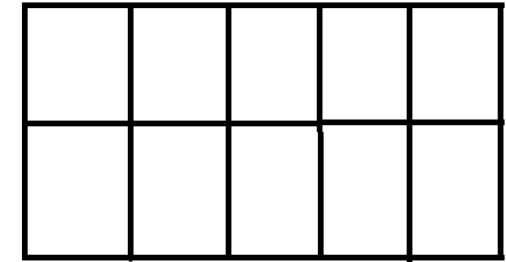
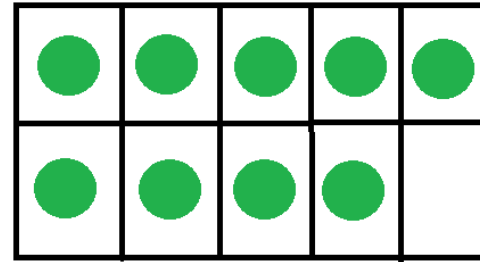
TENGO ___ CIRCULOS
¿CUANTOS ME FALTAN PARA LLEGAR A 11?, AHORA A DIBUJAR
_____ Y _____ SON 11



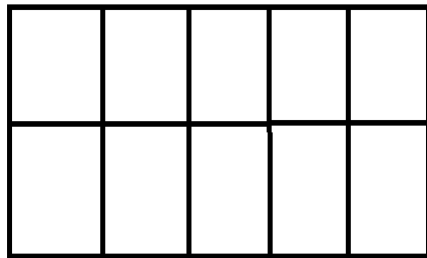
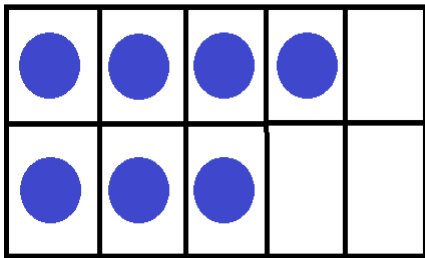
TENGO ___ CIRCULOS
¿CUANTOS ME FALTAN PARA LLEGAR A 12?, AHORA A DIBUJAR
_____ Y _____ SON 12



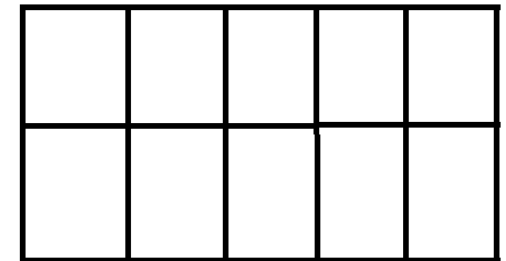
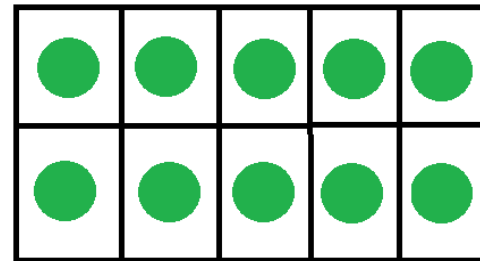
TENGO ___ CIRCULOS
¿CUANTOS ME FALTAN PARA LLEGAR A 11?, AHORA A DIBUJAR
_____ Y _____ SON 11



TENGO ___ CIRCULOS
¿CUANTOS ME FALTAN PARA LLEGAR A 13?, AHORA A DIBUJAR
_____ Y _____ SON 13



TENGO ___ CIRCULOS
¿CUANTOS ME FALTAN PARA LLEGAR A 12?, AHORA A DIBUJAR
_____ Y _____ SON 12



TENGO ___ CIRCULOS
¿CUANTOS ME FALTAN PARA LLEGAR A 13?, AHORA A DIBUJAR
_____ Y _____ SON 13