

CAPITULO
12

Contar hacia adelante y contar hacia atrás

¡Hagámoslo!




¿Cuántos más faltan para completar 10?
Cuenta y escribe.

a.  

b.  

c.  

d.  

e. 


f.  

© 2012 Maruball Cavendish International (Singapore) Private Limited. Copying is permitted, see page ii.

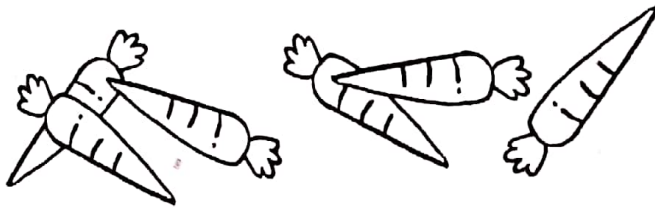
2

¿Cuántas más faltan para completar 10?
Cuenta y escribe.

a.



b.



¡Comentemos!

1

- Muestre a los niños 8 fichas azules y 3 fichas rojas.
Pregunte: ¿Cuántas fichas azules hay? ¿Cuántas fichas rojas hay?
- Pregunte: ¿Hay más fichas azules o más fichas rojas?
¿Cuántas más hay?
- Pregunte: ¿Hay menos fichas azules o menos fichas rojas?
¿Cuántas menos hay?

2

Muestre 7 cubos interconectables. Pregunte: ¿Cuántos más faltan para completar 10? Repita la actividad usando un número diferente de cubos.